



Ve východní části Arabského poloostrova leží dva státy: **JEMEN** a **OMÁN**.



obyvatelé Jemenu


Zahnutá dýka za pasem je ozdobou a chloubou každého dospělého muže v Jemenu.



Ištarina brána původem z babylonské říše – na obrázku nově vytvořená kopie na území Iráku (během nedávné války byla poškozena)



krajina v Iráku



Gom – nábožensky významné město Íránu

PT Zopakujte si, která tradice spojená s Jemenem je jednou z příčin, proč byli téměř vyhubeni nosorožci – živočichové afrických savan.



Co víte ze sdělovacích prostředků o státech Irák a Írán?

3. IRÁK

Irák se rozkládá při Perském zálivu. Povrch této země tvoří **Mezopotámská nížina**, kterou protékají řeky **Eufkrat** a **Tigris**.

Z Irák leží na území tzv. **úrodného půlměsíce**, které zahrnuje dnešní Irák, Sýrii, Libanon, Izrael, Jordánsko a Egypt. V této oblasti se poprvé rozvinula zemědělská kultura, zrodily se zde první písemné památky.



Z mapy zjistěte, jak se nazývá společné ústí řek Eufkrat a Tigris.

Jak se ve starověku nazývala oblast v povodí řek Eufkrat a Tigris?

D

Jak se nazývala první civilizace, která se zde rozvinula?

Většinu obyvatelstva tvoří **Arabové** vyznávající **islám**. Významnou menšinou jsou **Kurdové** obývající sever země.

Z *Kurdové jsou národ obývající odlehle části území mezi Tureckem, Sýrií, Irákem a Íránem. Ke kurdské národnosti se hlásí 30 milionů lidí, kteří však marně bojují za svá práva. Často jsou v uvedených státech utlačováni a stávají se obětmi diskriminace.*



Na které řece leží hlavní město Iráku Bagdád?

Podobně jako v dalších státech z oblasti Perského zálivu je také irácké **hospodářství závislé na těžbě a zpracování ropy a zemního plynu**. Nacházejí se zde i významná naleziště **fosfátů** a **solí**. V posledních dvaceti letech se Irák ocitl v hluboké **krizi** zapříčiněné **letitými válečnými konflikty**.

Z *Irák v čele se Saddámem Husajnem bojoval v letech 1980-88 s Íránem o ropné oblasti v Perském zálivu, později napadl Kuvajt. Po konfliktu mezi OSN a Irákem ohledně zbraní hromadného ničení došlo v r. 2003 ke svržení režimu Saddáma Husajna mezinárodními vojsky v čele s USA.*



Zjistěte, jaká je situace v Iráku v současné době.



Vyhledejte na mapě sousední státy Iráku.

4. ÍRÁN

Velkou zemí jihozápadní Asie je **Írán**, dříve označovaný jako **Persie**. Obyvatelé Íránu jednotně vyznávají **islám**. Íránské hospodářství bylo silně **poškozeno válkou s Irákem**. Většinu vývozu dnes tvoří **ropa**. Tradičním hospodářským odvětvím je i proslulá výroba **íránských kobereců**.

Z *V Íránu se nacházejí zachovalé památky z dob starověké perské říše.*

Jihozápadní Asii tvoří 15 států. Společným znakem těchto většinou pouštních států je horké podnebí s nedostatkem vody. Velké zásoby ropy a zemního plynu jsou zdrojem bohatství „ropných států“ v oblasti Perského zálivu. Jedná se o politicky nestabilní oblast.



koberec: *anglicky – carpet* [ka:pit]

německy – der Teppich

fosfát: *anglicky – phosphate* [ˈfɒs,feɪt]

německy – das Phosphat